




Fișă de lucru

Clasa pregătitoare

1. Scrie numerele care lipsesc:



2. Scrie vecinii numerelor:



3. Compară numerele:

$18 \square 24$

$7 \square 17$

$19 \square 15$

$5 \square 7$

$15 \square 15$

$8 \square 6$


$22 \square 12$

$16 \square 26$

4. Calculează:

	5	+	1	0	=					1	2	+	7	=				
1	1	+		8	=					8	+	1	1	=				
1	0	-		5	=					1	7	-	6	=				
1	7	-		4	=					2	0	-	1	0	=			

5. Broscuța Fifi sare tot câte 2 pietre pentru a ajunge la nufărul magic. Pe ce piatră va ajunge după trei salturi?



6. Te-ai descurcat minunat!
Colorează imaginea ca să
te relaxezi.

