
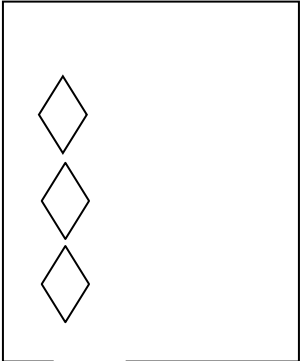

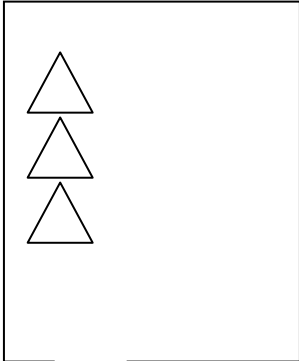


Numele și prenumele:

Data:

Fișă de evaluare
Numerele naturale de la 0 la 10
Clasa pregătitoare

1. Completează cu figuri geometrice astfel încât să fie tot atâtea cât arată cifra:

			
6	10	7	9

2. Completează șirurile cu numerele care lipsesc:

0		2			5			8		
10			7						1	

3. Scrie vecinii următoarelor numerelor:

___ 8 ___, ___ 5 ___, ___ 2 ___, ___ 3 ___,
___ 9 ___, ___ 4 ___, ___ 6 ___, ___ 5 ___.

4. Compară numerele folosind semnele $<$, $>$, $=$:

7 <input type="text"/> 9	5 <input type="text"/> 1	8 <input type="text"/> 9	10 <input type="text"/> 9
3 <input type="text"/> 4	2 <input type="text"/> 5	7 <input type="text"/> 7	8 <input type="text"/> 6

5. Scrie numerele în ordine crescătoare , apoi descrescătoare:

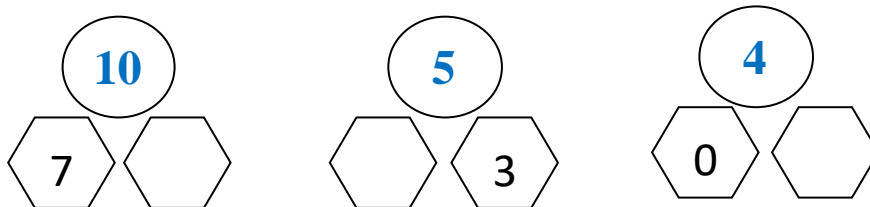
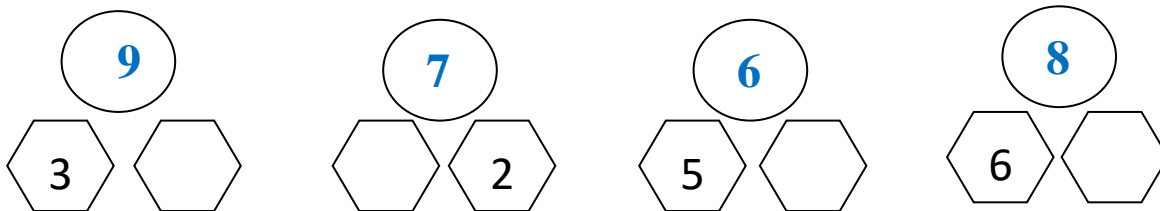


A horizontal row of five empty rectangular boxes. An arrow points from the left towards the first box.



A horizontal row of five empty rectangular boxes. An arrow points from the left towards the first box.

6. Descompune următoarele numere:



7. Calculează și scrie rezultatul:

$7+2=$

$1+9=$

$9-2=$

$10-5=$

$3+4=$

$6+3=$

$8-3=$

$5-1=$

1. Competențe vizate:

1.1. Recunoașterea și scrierea numerelor naturale în centrul 0 -10

1.2. Compararea numerelor naturale în centrul 0 -10;

1.3. Ordonarea numerelor naturale în centrul 0 -10;

1.4. Efectuarea de operații în centrul 0 -10;

2. Descriptori de performanță

Compe- tența	Itemul	Performanța		
		Realizat	În curs de realizare	Nerealizat
1.1.	Numără și completează corect mulțimile date	4 situații	3 situații	2 situații
1.3.	Completează șirurile cu cifrele care lipsesc	2 situații	1 situație	-
1.2.	Scrie vecinii numerelor	7-8 situații	4-6 sit	1-3 situații
1.2.	Stabilește corect relațiile $<$, $>$, $=$ în perechile date	7-8 situații	4-6 situații	1-3 situații
1.3.	Ordonează crescător și descrescător numerele date	2 situații	1 situație	-
1.4.	Descompune numerele date	6-7 situații	4-5 situații	1-3 situații
1.4.	Rezolvă adunări și scăderi în centrul 1 -10	7-8 situații	4-6 situații	1-3 situații

